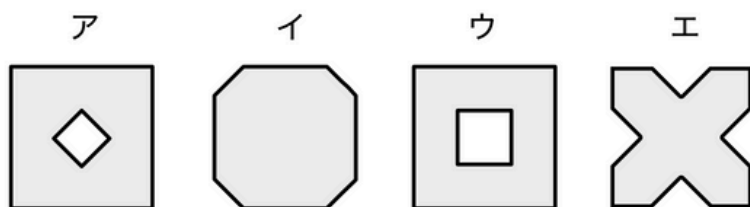
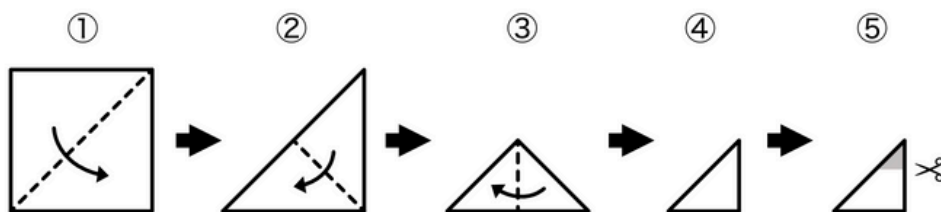
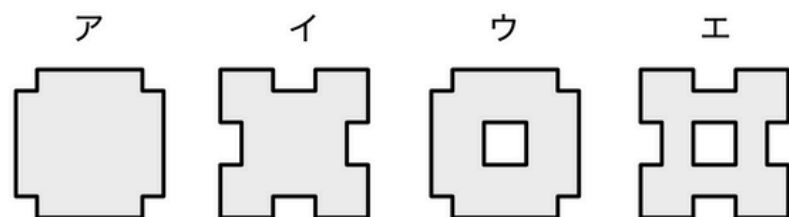
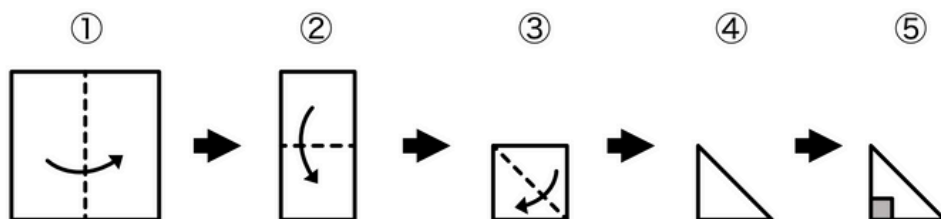


- ① 正方形の折り紙を①～③の順に3回折って、出来上がった④の形で⑤のように色のついた部分を切り取りました。広げたときにできる模様はア～エのどれになるでしょうか？



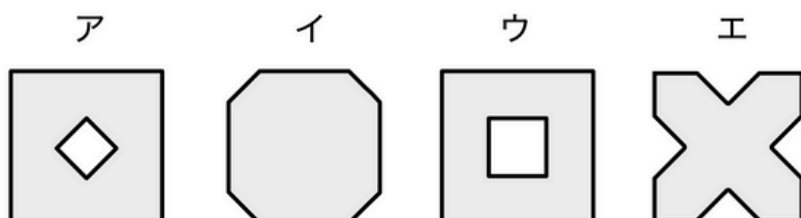
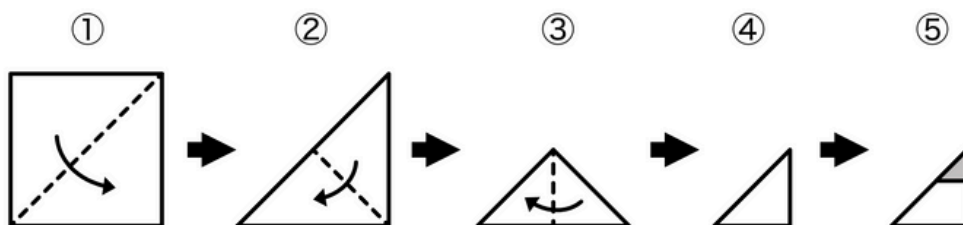
こたえ（ ）

- ② 正方形の折り紙を①～③の順に3回折って、出来上がった④の形で⑤のように色のついた部分を切り取りました。広げたときにできる模様はア～エのどれになるでしょうか？



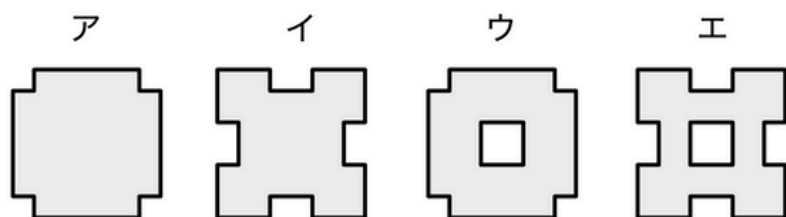
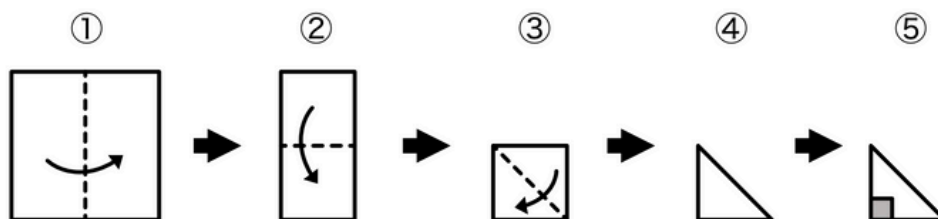
こたえ（ ）

- ① 正方形の折り紙を①～③の順に3回折って、出来上がった④の形で⑤のように色のついた部分を切り取りました。広げたときにできる模様はア～エのどれになるでしょうか？



こたえ（ ウ ）

- ② 正方形の折り紙を①～③の順に3回折って、出来上がった④の形で⑤のように色のついた部分を切り取りました。広げたときにできる模様はア～エのどれになるでしょうか？



こたえ（ イ ）