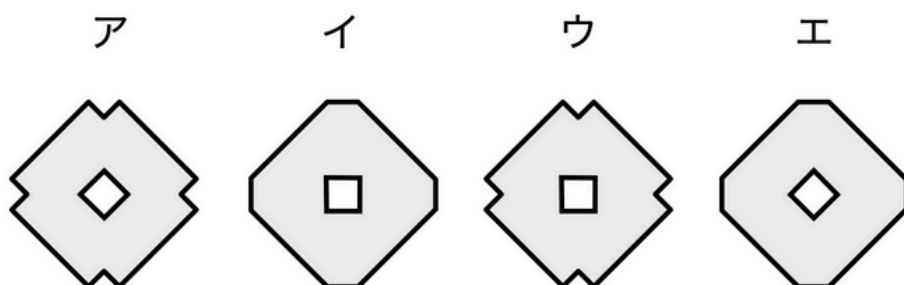
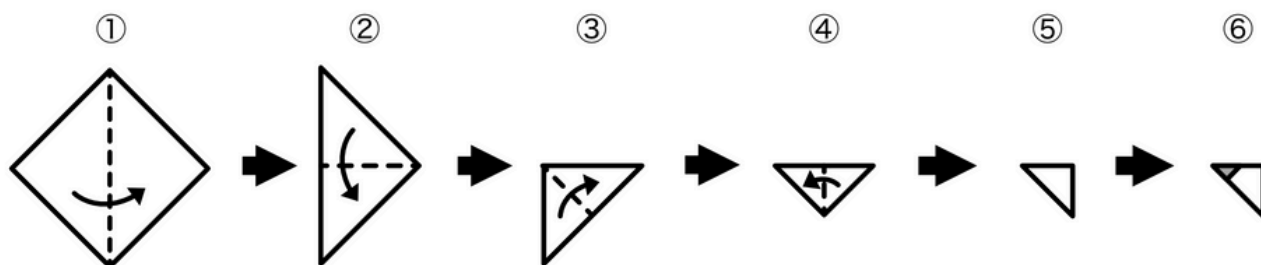
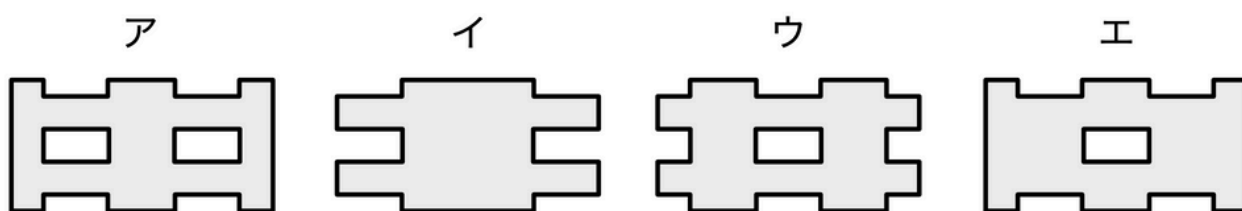
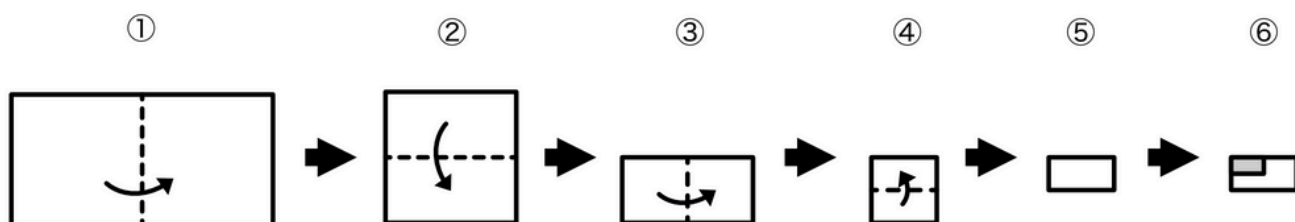


- ① 正方形の折り紙を①～④の順に4回折って、出来上がった⑤の形で⑥のように色のついた部分を切り取りました。広げたときにできる模様はア～エのどれになるでしょうか？



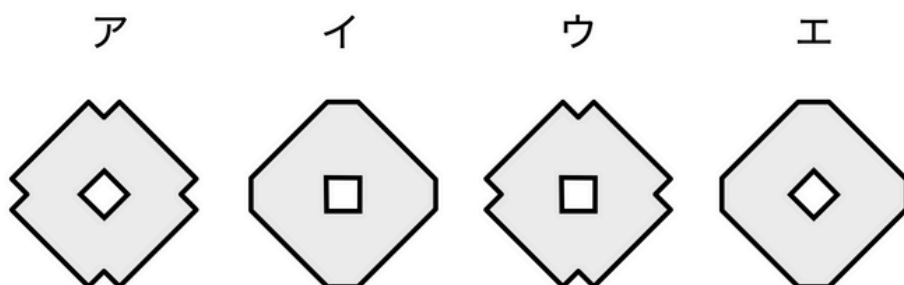
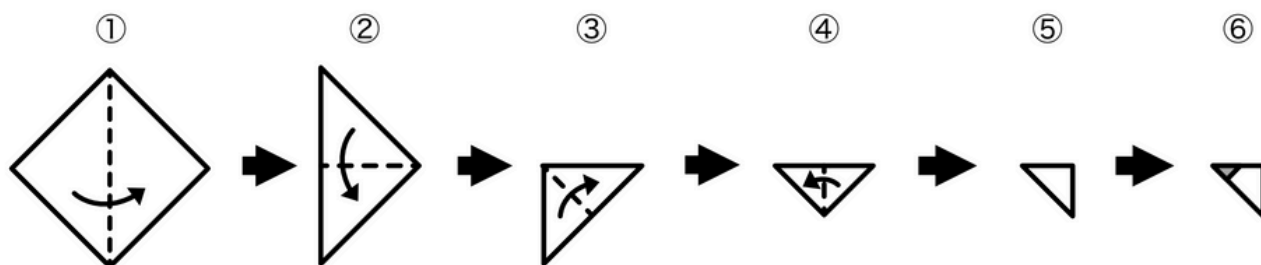
こたえ（ ）

- ② 正方形の折り紙を①～④の順に4回折って、出来上がった⑤の形で⑥のように色のついた部分を切り取りました。広げたときにできる模様はア～エのどれになるでしょうか？



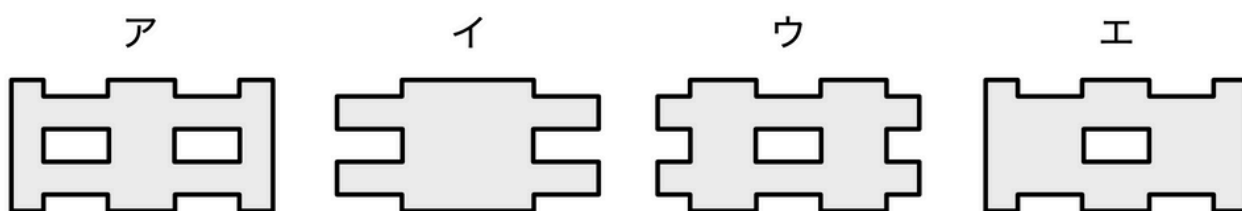
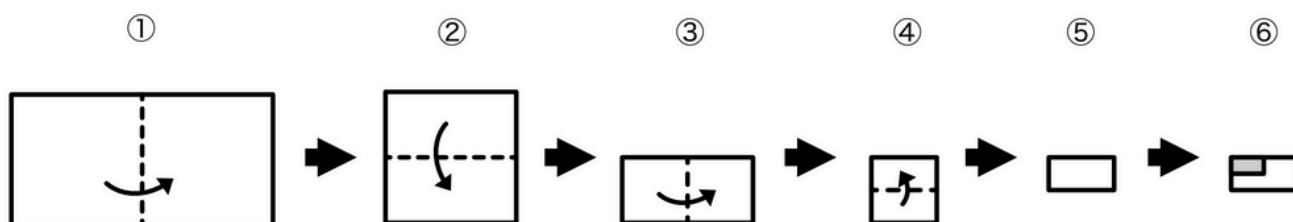
こたえ（ ）

- ① 正方形の折り紙を①～④の順に4回折って、出来上がった⑤の形で⑥のように色のついた部分を切り取りました。広げたときにできる模様はア～エのどれになるでしょうか？



こたえ（ ア ）

- ② 正方形の折り紙を①～④の順に4回折って、出来上がった⑤の形で⑥のように色のついた部分を切り取りました。広げたときにできる模様はア～エのどれになるでしょうか？



こたえ（ ア ）