

- ① 正方形の折り紙を①～③の順に3回折って、出来上がった④の形で⑤のように色のついた部分を切り取りました。残った折り紙を広げたとき、どのように切り取られたでしょうか。図1の折り紙の図の中に切り取られた部分を塗りつぶしなさい。

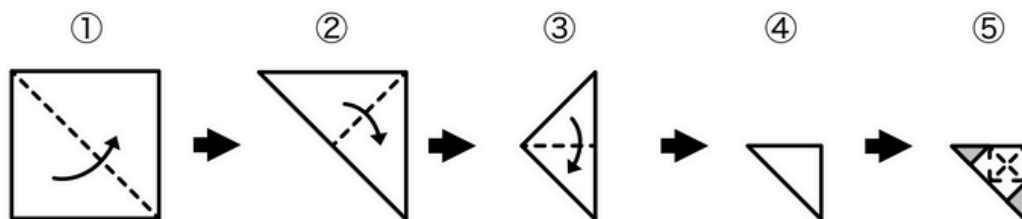
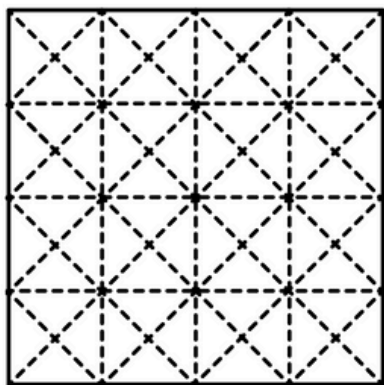


図1



- ② 正方形の折り紙を①～③の順に3回折って、出来上がった④の形で⑤のように色のついた部分を切り取りました。残った折り紙を広げたとき、どのように切り取られたでしょうか。図1の折り紙の図の中に切り取られた部分を塗りつぶしなさい。

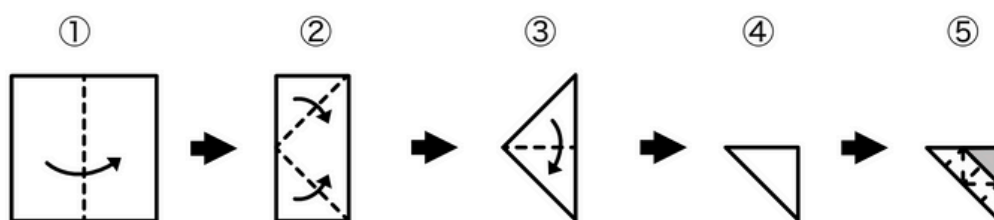
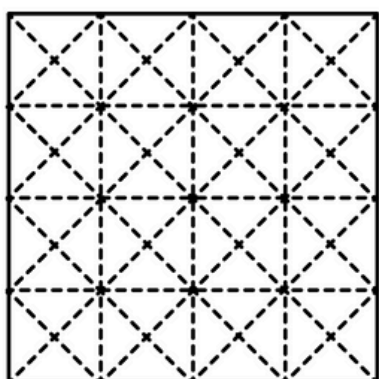


図1



- ① 正方形の折り紙を①～③の順に3回折って、出来上がった④の形で⑤のように色のついた部分を切り取りました。残った折り紙を広げたとき、どのように切り取られたでしょうか。図1の折り紙の図の中に切り取られた部分を塗りつぶしなさい。

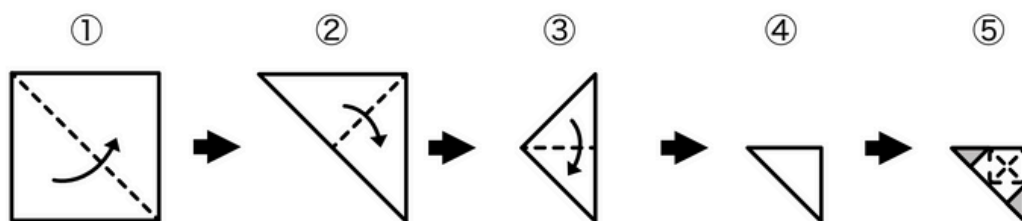
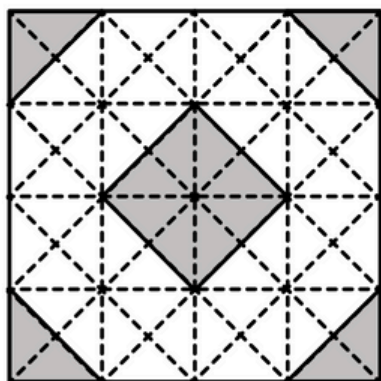


図1



- ② 正方形の折り紙を①～③の順に3回折って、出来上がった④の形で⑤のように色のついた部分を切り取りました。残った折り紙を広げたとき、どのように切り取られたでしょうか。図1の折り紙の図の中に切り取られた部分を塗りつぶしなさい。

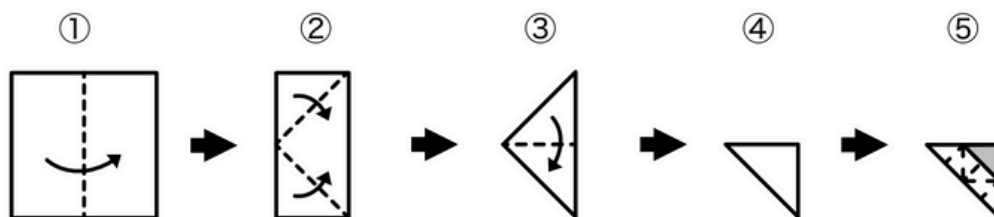


図1

