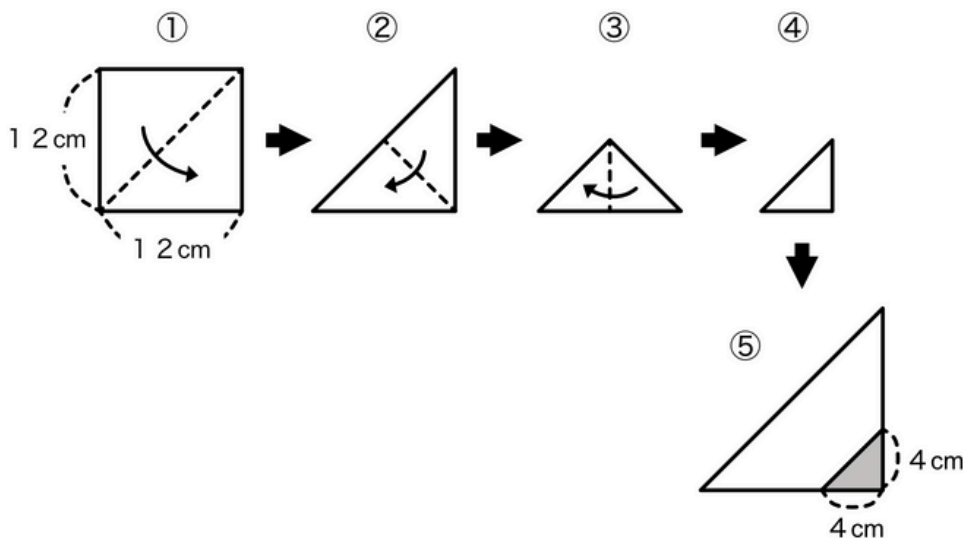
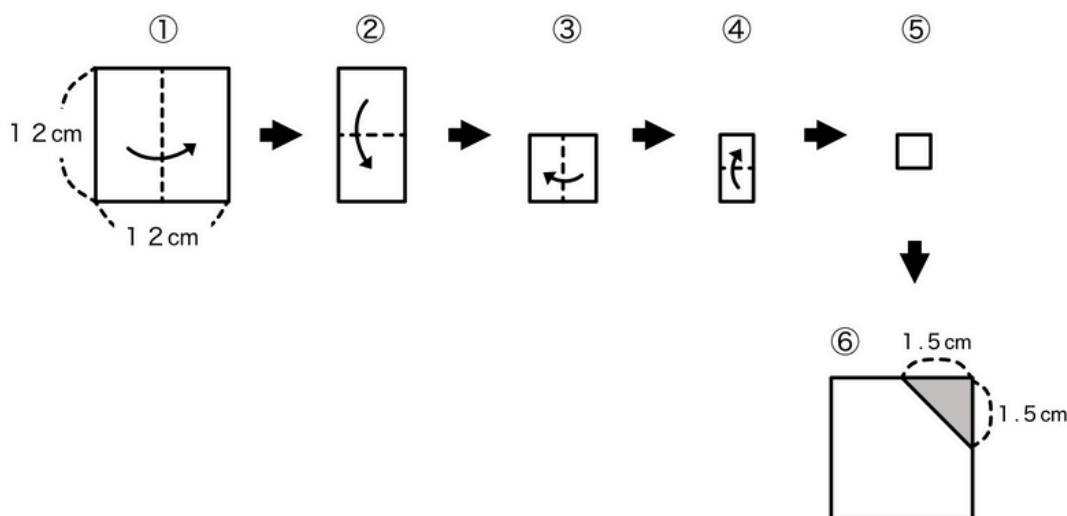


- ① 1辺が12cmの正方形の折り紙を①～③の順に3回折って、出来上がった④の形で⑤のように色のついた部分を切り取りました。残った部分の折り紙を広げたときの面積を答えなさい。



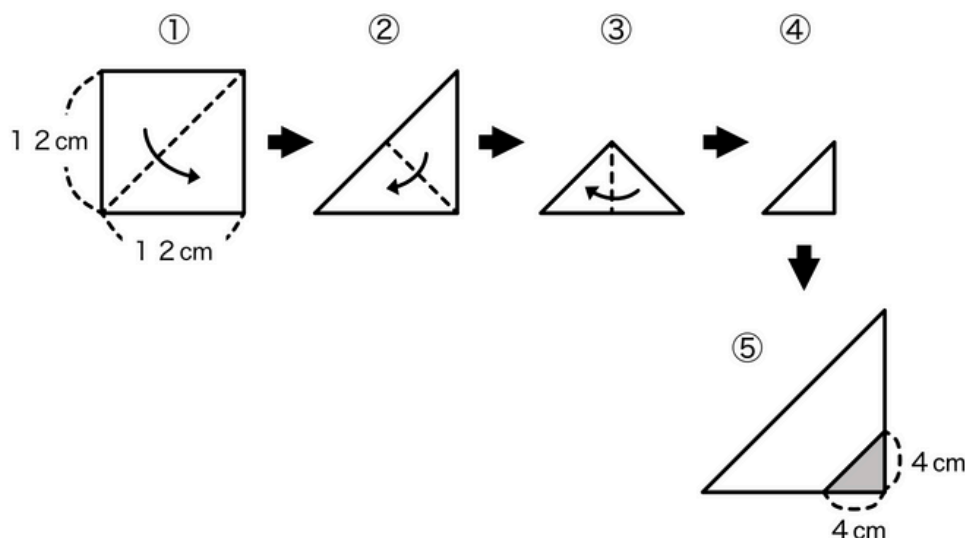
こたえ（ ）

- ② 1辺が12cmの正方形の折り紙を①～④の順に4回折って、出来上がった⑤の形で⑥のように色のついた部分を切り取りました。残った部分の折り紙を広げたときの面積を答えなさい。



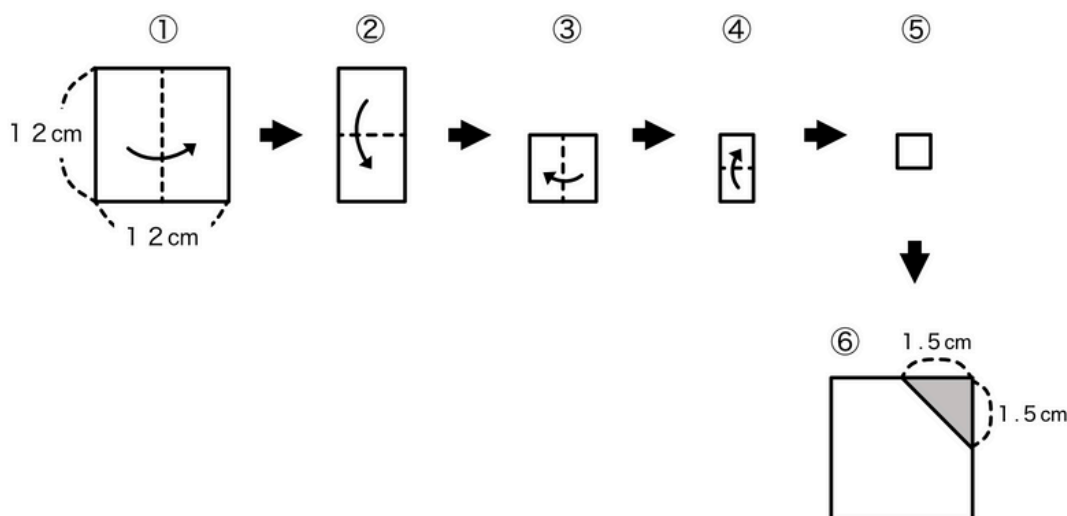
こたえ（ ）

- ① 1辺が12cmの正方形の折り紙を①～③の順に3回折って、出来上がった④の形で⑤のように色のついた部分を切り取りました。残った部分の折り紙を広げたときの面積を答えなさい。



こたえ（ 80  $\text{cm}^2$  ）

- ② 1辺が12cmの正方形の折り紙を①～④の順に4回折って、出来上がった⑤の形で⑥のように色のついた部分を切り取りました。残った部分の折り紙を広げたときの面積を答えなさい。



こたえ（ 126  $\text{cm}^2$  ）